

NOM.....

SEPT 08/09

PRENOM.....

ECOLE .....

## EVALUATION CE1 MATHEMATIQUES

1. Ecris les nombres.

--	--	--	--	--	--

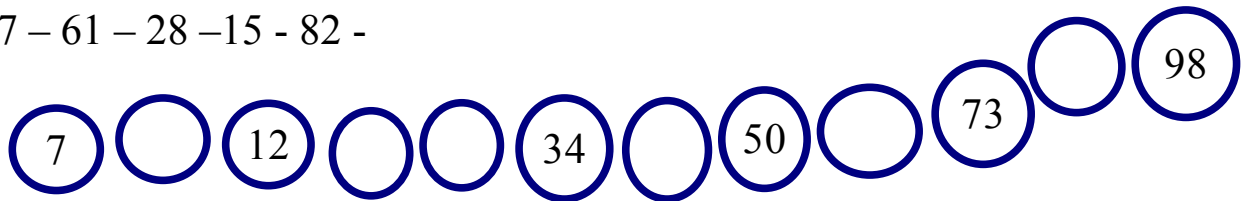
2. Range les nombres du plus petit au plus grand.

36 – 63 – 29 – 24 - 70 – 17 -

.....

3. Sur le collier on a déjà écrit des nombres du plus petit au plus grand, écris à la bonne place les nombres suivants :

37 – 61 – 28 – 15 - 82 -



4. Continue à écrire la suite des nombres qui manquent dans les cases.

A	18	19	20					
---	----	----	----	--	--	--	--	--

B	66	67	68					
---	----	----	----	--	--	--	--	--

C	35	36	37					
---	----	----	----	--	--	--	--	--

5. Combien je dois ajouter à .... pour faire 10.

5. Ecris le résultat de...

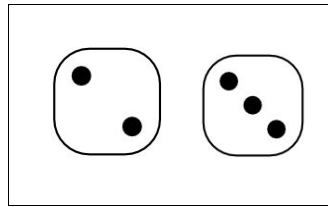
☺	
---	--

☺	
---	--

a	
b	
c	
d	
e	

f	
g	
h	
i	
j	

6. Relie 23 aux étiquettes qui font 23.

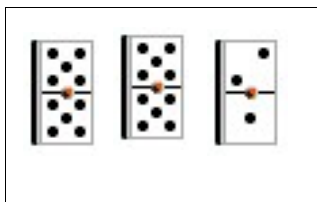
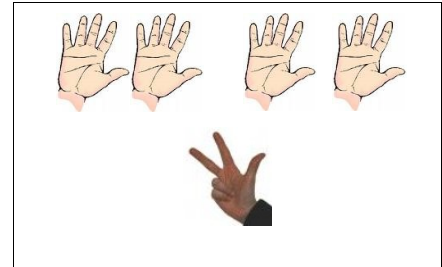


$$10 + 10 + 3$$

$$10 + 5$$

2 dizaines et 3 unités

23



$$2 + 3$$

7. Trouve le nombre de feuilles en faisant des paquets.

